

**Programa Educación Abierta**  
Vicerrectoría Acción Social UCR  
Profesor: Lic. Allan Rojas Acevedo  
Año 2012

Puntaje total: **17**

Puntos obtenidos: \_\_\_\_\_

Prueba Corta de Estudios Sociales N° 3  
Nivel: Bachillerato (B X M)

Calificación obtenida: \_\_\_\_\_

Nombre: \_\_\_\_\_ Fecha: \_\_\_\_\_

**Instrucciones generales:** Lea cuidadosamente la prueba antes de contestarla. Utilice bolígrafo con tinta de color azul o negra, no utilice líquido corrector. Evite tachones y respuestas escritas con lápiz, de lo contrario deberá abstenerse de reclamos posteriores.

**I Parte: Selección Única**

**Valor: 17 puntos**

Escriba una "X" sobre la letra que antecede a la opción que usted considere correcta en cada enunciado. (1 punto cada acierto).

***Anote a continuación las respuestas de selección única en Mayúscula***

1	2	3	4	5	6	7	8	9	10	11	12	13	14	15	16	17

1-Lea la siguiente información referida a Costa Rica.

**1- Es la región de Costa Rica que sufre mayor contaminación**

**2- Comprende toda la provincia de Guanacaste.**

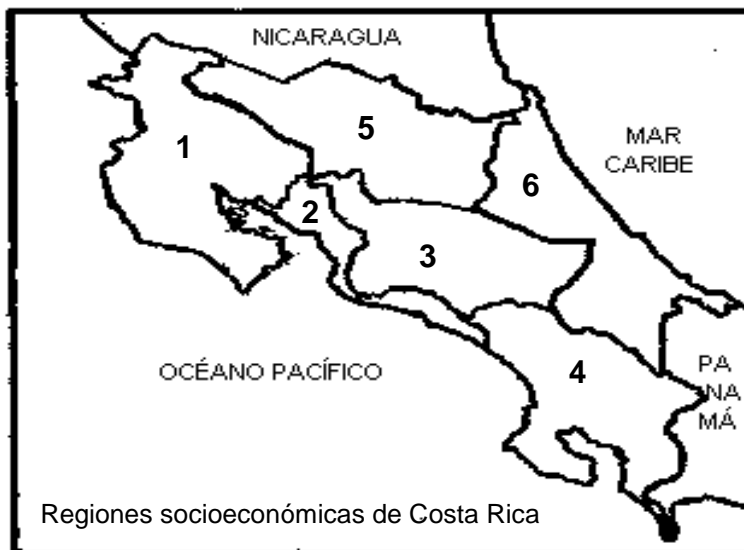
**3- Su sede regional es Ciudad Quesada.**

**4- Limita al norte con Nicaragua.**

¿Cuáles números de los anteriores identifican particularidades de la Región Huetar Norte?

- A) 1, 2, 3 y 4.
- B) Solo 2 y 3.
- C) Solo 3 y 4.
- D) Solo 1, 2 y 4.

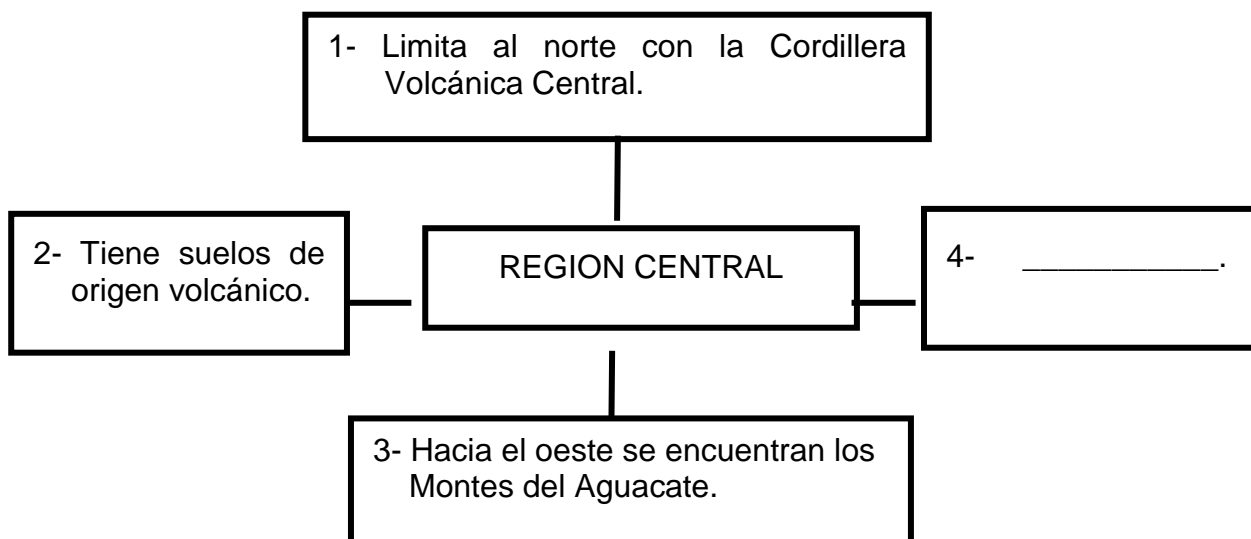
2-Observe el siguiente croquis de Costa Rica.



¿Con cuáles números se señalan las regiones Chorotega, Huetar Atlántica y Brunca?

- A) 1, 6, 2.
- B) 1, 6, 4.
- C) 2, 5, 4.
- D) 5, 4, 3.

3-Observe el siguiente esquema:



¿Cuál es la característica que completa correctamente el recuadro con el número 4?

- A) Posee extensas llanuras.
- B) Tiene la cuenca hidrográfica más grande del país.
- C) Es la única región del país con clima tropical seco.
- D) Limita al sur con las estribaciones de la Cordillera de Talamanca.

4-Qué nombres reciben las llanuras situadas en la región Huetar Norte de Costa Rica?

- A) Térraba y Coto.
- B) Parrita y Diquís.
- C) Guatuso y San Carlos.
- D) La Estrella y El General.

5-Relacione cada "región" con su respectivo "cultivo no tradicional".

Regiones	Cultivos No Tradicionales
1- Huetar Atlántica	<input type="checkbox"/> Fresas
2- Pacífico Central	<input type="checkbox"/> Palma aceitera
3- Región Central	<input type="checkbox"/> Piña

¿Cuál opción contiene la relación correcta de las regiones con sus respectivos "cultivos no tradicionales"?

- A) 1 – 2 – 3.
- B) 3 – 2 – 1.
- C) 2 – 3 – 1.
- D) 2 – 1 – 3.

6-Lea el siguiente texto.

Aunque la Región Central es el centro de las actividades de los sectores secundario y terciario de Costa Rica, también tiene actividades propias del sector primario entre las que destacan la ganadería de \_\_\_\_\_ y cultivos como \_\_\_\_\_ y \_\_\_\_\_.

¿En cuál de las opciones se anotan las actividades económicas que completan correctamente el texto anterior?

- A) leche, café y flores.
- B) leche, banano y algodón.
- C) carne, palma africana y banano.
- D) de doble propósito, banano y papaya.

7-Observe el siguiente croquis de Costa Rica.



¿Cuáles son los nombres de las regiones socioeconómicas que aparecen sin sombrear en el croquis anterior?

- A) Brunca y Pacífico Central.
- B) Central y Huetar Atlántica.
- C) Huetar Norte y Chorotega.
- D) Chorotega y Pacífico Central.

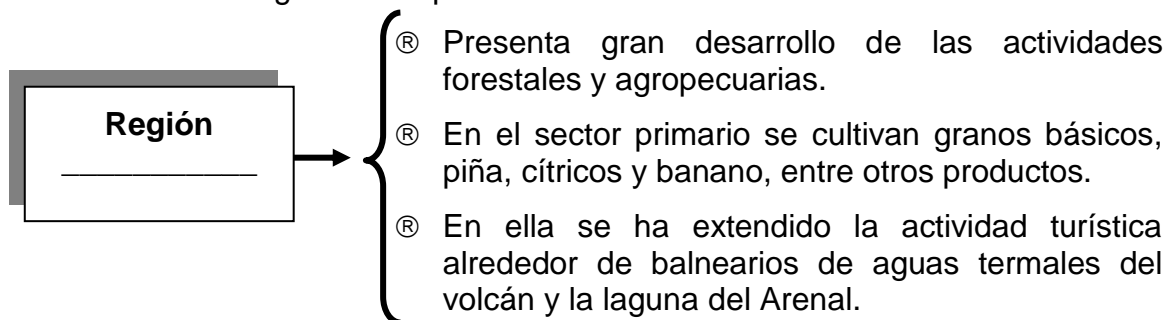
8-Lea el siguiente texto.

**En el mes de febrero del 2004, con un costo de 285 millones de colones, se inauguró la pista del aeropuerto de Limón que mide 1 800 metros de longitud y posee iluminación. Esta pista servirá para recibir aviones de 100 pasajeros. No obstante, autoridades del gobierno indicaron que para recibir vuelos comerciales aún faltan algunos años, porque es insuficiente la inversión privada en hoteles, restaurantes y transporte.**

El texto anterior pone en evidencia uno de los problemas que ha afectado a la región Huetar Atlántica, que se refiere a la

- A) inexistencia de servicios básicos.
- B) deficiencia en obras de infraestructura.
- C) falta de sitios de interés turístico en la región.
- D) indiferencia de los pobladores ante sus problemas.

9-Lea la información del siguiente esquema.



¿Cuál es el nombre de la región socioeconómica de Costa Rica que completa correctamente el esquema anterior?

- A) Central.
- B) Chorotega.
- C) Huetar Norte.
- D) Pacífico Central.

10-Lea la siguiente información.

REGIÓN	CARACTERÍSTICAS SOCIOECONÓMICAS
Central	Concentra la mayor cantidad de industrias del país.
Pacífico Central	La palma africana es uno de los principales cultivos.
Chorotega	_____

¿Cuál característica completa correctamente la información del recuadro anterior?

- A) Prevalece la agricultura de banano, tubérculos y plantas ornamentales.
- B) Un considerable sector de la población labora en actividades industriales.
- C) El turismo en la actualidad es la actividad económica de mayor crecimiento.
- D) La exportación de productos no tradicionales se basa en flores, fresas y chayotes.

11-Las regiones socioeconómicas de Costa Rica presentan diversos problemas. En la región Brunca destaca,

- A) la situación de los inmigrantes con problemas de tenencia de la tierra, de desnutrición, falta de vivienda y buenas vías de comunicación.
- B) la contaminación del Golfo Dulce, provocada mayormente por las industrias que empacan atún y sardinas.
- C) el desempleo, generado por la disminución de la pesca industrial del atún y la ballena azul.
- D) el acelerado proceso de deforestación que arrasó con el bosque primario de la región.

12-Lea el texto siguiente referido a regiones de Costa Rica.

El sector agropecuario produce para la exportación café, caña de azúcar, fresas, flores y chayotes. Para el mercado interno produce hortalizas, legumbres, frutas y tubérculos. Las faldas de la Cordillera Volcánica Central están dedicadas a la ganadería de leche.

**Estudios Sociales 2, MEP- ICER, p. 35**

Lo descrito en el texto anterior se ubica en la región

- A) Brunca.
- B) Central.
- C) Huetar Atlántica.
- D) Pacífico Central.

13-Lea la información siguiente.

1- Crecimiento sin planificación.

2- Se ubica el principal puerto del país.

3- Concentra el 80% de las industrias del país.

4- Tiene los mejores servicios de electricidad, agua y teléfono.

¿Cuáles números de los anteriores identifican características de la región Central de Costa Rica?

- A) 1, 2, 3 y 4.
- B) Solo 2 y 4.
- C) Solo 1, 2 y 3.
- D) Solo 1, 3 y 4.

14-Lea el texto siguiente.

"Es la región más grande de nuestro país. Tradicionalmente, ha sido el granero de Costa Rica y la productora del ganado de carne, pero por los prolongados períodos de sequía estas actividades se ven afectadas. En la actualidad trata de desarrollarse a través de otras alternativas como el turismo."

**Estudios Sociales 2, MEP- ICER, p. 37**

¿Qué nombre recibe la región de Costa Rica descrita en el texto anterior?

- A) Pacífico Central.
- B) Huetar Norte.
- C) Chorotega.
- D) Central.

15-Lea la información siguiente.

**1- Su principal río es el Grande de Térraba.**

**2- Produce energía geotérmica en Miravalles.**

**3- Santa Rosa es uno de sus parques nacionales.**

**4- La Costanera Sur es su principal vía de**

¿Con cuáles números de los anteriores se identifican características de la región Chorotega de Costa Rica?

- A) 1, 2, 3 y 4.
- B) Solo 2 y 3.
- C) Solo 1, 2 y 4.
- D) Solo 1, 3 y 4.

16-Lea el texto siguiente.

**"Es una región de gran desarrollo turístico por sus bellas playas e islas del Golfo de Nicoya, así como el ecoturismo en parques nacionales (Manuel Antonio y Carara), y en las reservas biológicas Isla Pájaros, Isla Guayabo, Isla Negritos. También en esta región está ubicada la reserva natural absoluta Cabo Blanco."**

**Estudios Sociales 2, MEP-ICER, p. 45**

¿Qué nombre recibe la región de Costa Rica que se identifica en el texto anterior?

- A) Central.
- B) Brunca.
- C) Pacífico Central.
- D) Huetar Atlántica.

17-Lea la siguiente información.

**1- Desempleo.**

**2- Precarismo urbano.**

**3- Problemas fronterizos.**

**4- Contaminación de playas y**

¿Con cuáles números de los anteriores se identifican problemas que presenta la región Pacífico Central?

- A) 1, 2, 3 y 4.
- B) Solo 3 y 4.
- C) Solo 1, 2 y 3.
- D) Solo 1, 2 y 4.