

Función Lineal

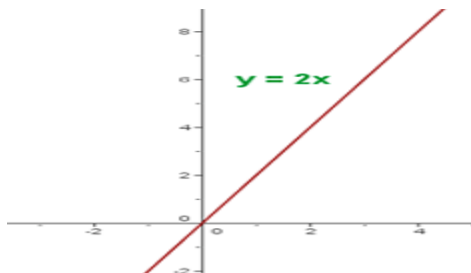
Recordemos que una función es una correspondencia entre los elementos de un conjunto de partida, llamado Dominio, y los elementos de un conjunto de llegada, llamado Condominio, de forma tal que a cada elemento del dominio le corresponde uno, y solo uno, en el codominio.

Una función lineal es una función cuyo dominio son todos los números reales, cuyo codominio son también todos los números reales, y cuya expresión analítica es un polinomio de primer grado. Expresión típica:

- $aX + b$. Donde a y b son números enteros o fracciones. Ejemplo:
- $2x + 3$
- $\frac{3}{2}x + \frac{2}{5}$

Grafiquemos la siguiente función

$$F(x) = 2x$$



Para representar este gráfico, se le asignan valores a la letra, "x" y se construye una tablita de valores con los datos obtenidos, los cuales nos darán el comportamiento y ubicación de la recta.

Para la anterior metimos los siguientes valores:

X	0	1	2	3	4
Y=2x	0	2	4	6	8

Otro ejemplo:

CONSTRUCCIÓN DE LA GRÁFICA DE LA FUNCIÓN $y = -\frac{1}{2}x$

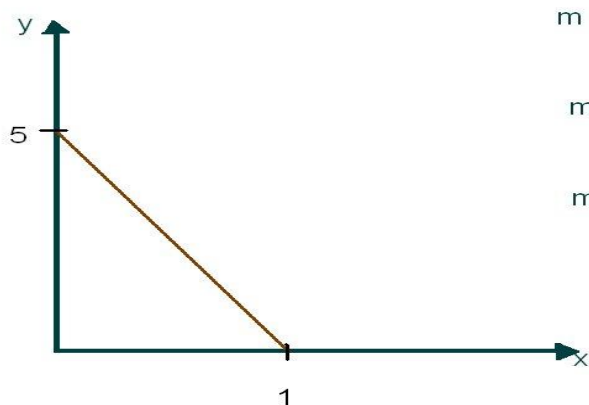
- 1. Dibujamos el punto (0,0)**
- 2. Damos un valor a x.**
Para simplificar damos el valor del denominador: $x=2 \Rightarrow y=-1$ y dibujamos el punto (2,-1)
- 3. Unimos los dos puntos.**

Observa que con cualquier punto el cociente entre las dos variables es constante e igual a m:

$$\frac{b}{a} = \frac{4}{-8} = -0,5 = m$$

$m = -\frac{1}{2} = -0,5$

Otro ejemplo de cálculo de la pendiente



$$m = \frac{y_2 - y_1}{x_1 - x_2} < 0$$

$$m = \frac{0 - 5}{1 - 0} = -5$$

$$m = -5$$

Ahora si tenemos una función lineal; el número que multiplica a "x" representa la pendiente de la recta.

Por ejemplo viendo lo anterior, si tenemos

$F(x) = 2x$, el 2 representa la pendiente de la recta. Y lo denotamos con la letra m a la pendiente. Por tanto diríamos que la pendiente $\rightarrow m=2$

En una recta, la pendiente es siempre constante. Se calcula mediante la ecuación:

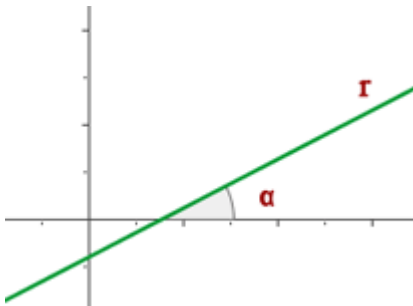
$$m = \left(\frac{y_2 - y_1}{x_2 - x_1} \right)$$

$$y - y_1 = m(x - x_1)$$

Analicemos los dos siguientes casos.

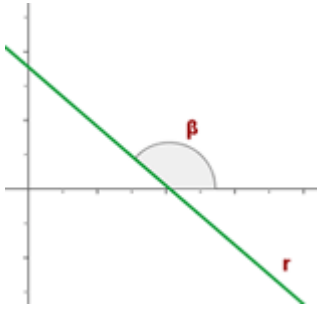
Si $m > 0$

La función es creciente y el ángulo que forma la recta con la parte positiva del eje OX es agudo.



Si $m < 0$

La función es decreciente y el ángulo que forma la recta con la parte positiva del eje OX es obtuso.



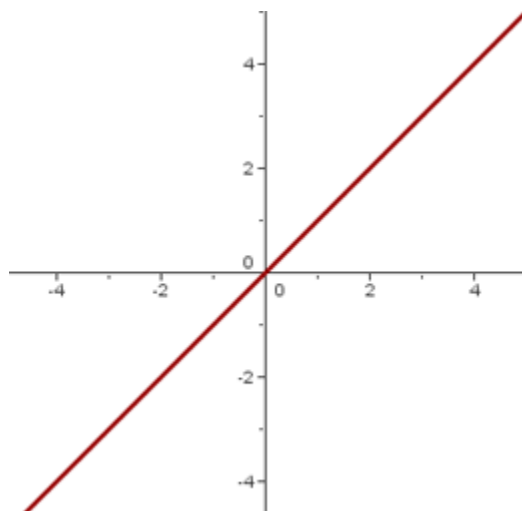
Caso particular

Función identidad

$$F(x)=x$$

$$m=1$$

Gráfico



Su gráfica es la bisectriz del primer y tercer cuadrante.

Sean los puntos A (x_1, y_1) y B (x_2, y_2) que determina una recta r. Un vector director de la recta es:

$$\vec{v} = \overrightarrow{AB}$$

Cuyas componentes son:

$$v_1 = x_2 - x_1 \quad v_2 = y_2 - y_1$$

Sustituyendo estos valores en la forma continúa.

$$\frac{x - x_1}{x_2 - x_1} = \frac{y - y_1}{y_2 - y_1}$$

Hallar la ecuación de la recta que pasa por A(1,3) y B(2,-5)

Solución:

$$\frac{x - 1}{2 - 1} = \frac{y - 3}{-5 - 3} \quad -8x + 8 = y - 3$$

$$8x + y - 11 = 0$$

Ecuaciones de la forma punto-pendiente

Una ecuación de una recta que pasa por un punto (x_1, y_1) con pendiente **m** es:

$$y - y_1 = m(x - x_1).$$

Conocida por la **ecuación punto-pendiente**.

Hallar la ecuación de la recta con pendiente -2 y pasa por el punto (1, 4). Expresa la ecuación de la forma general.

Hallar la ecuación de la recta que pasa por los puntos (1, -3) y (3, 7).

Posición relativa de dos rectas

Dadas dos rectas

$$y = m_1x + n_1 \quad y = m_2x + n_2$$

Si $m_1 \neq m_2$ las rectas se cortan en un punto cuyas coordenadas se obtienen resolviendo el sistema.

Se dice que las rectas son **secantes**.

Si $m_1 = m_2$ las rectas son **paralelas**.

Si, además, $n_1 = n_2$ las rectas son **coincidentes**.

Resolución de sistemas de ecuaciones lineales

$$\begin{cases} 4x - 2y - 3 = 0 \\ 2x - y - 7 = 0 \end{cases}$$

Resolvemos aplicando el método de sustitución:

De la ecuación

$$2x - y - 7 = 0$$

Se tiene que

$$y = 2x - 7;$$

Sustituyendo y en la ecuación

$$4x - 2y - 3 = 0,$$

Se obtiene

$$4x - 2 \cdot (2x - 7) - 3 = 0,$$

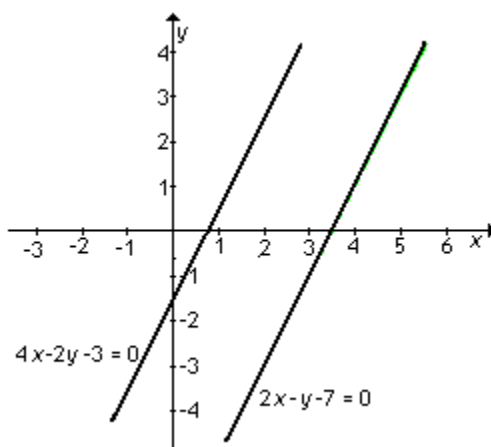
Resolviendo resulta

$$0x = -11.$$

Observemos que no existe ningún número real x que multiplicado por 0 de -11.

Por lo tanto el sistema no tiene solución.

En consecuencia, como el sistema **no tiene solución** pues no existen valores reales de x e y que verifiquen simultáneamente ambas ecuaciones. Gráficamente, vemos que las rectas no tienen ningún punto en común; luego son **rectas paralelas**.



Encuentre gráficamente la pendiente de las rectas que pasan por los siguientes puntos y calcule la pendiente "m" de cada una:

- a) (2, 4) y (-1, -2) b) (-3, 5) y (3, -1)
- c) (-3, 5) y (2, 1) d) (3, 2) y (5, 2)

A continuación algunos ejercicios resueltos de la función lineal, que serán de gran utilidad

Representar la siguiente función, sabiendo que:

Pasa por el punto $(2, -3)$ y es paralela a la recta de ecuación $y = -x + 7$.

$$m = -1$$

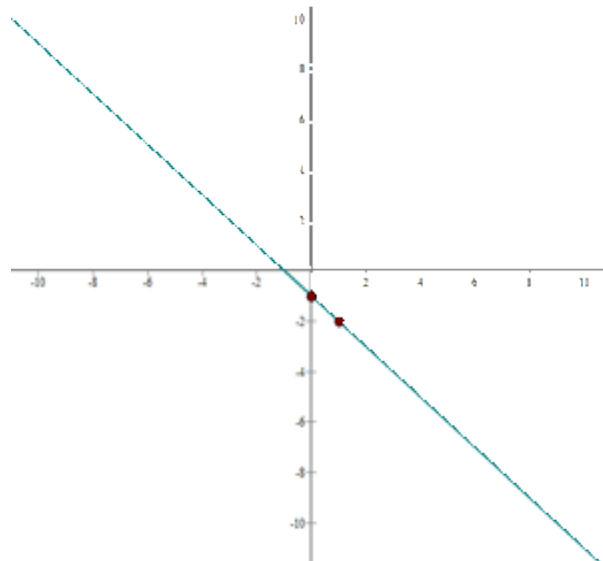
$$-3 = -1 \cdot (-2) + n \quad n = -1$$

$$y = -x - 1$$

$$x \quad y = -x - 1$$

$$0 \quad -1$$

$$1 \quad -2$$



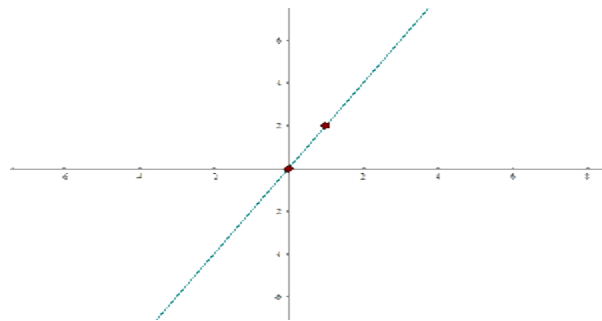
Representar la función lineal

$$y = 2x$$

x	f(x)=2x
----------	----------------

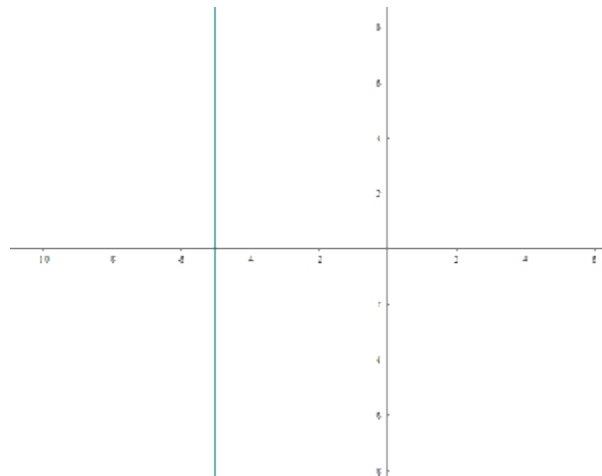
0	0
----------	----------

1	2
----------	----------



Representar la recta vertical

$$x = -5$$



Direcciones en línea para que practiquen:

<http://www.x.edu.uy/lineal.htm>

http://amolasmates.es/pdf/Temas/3_ESO/Funcion%20lineal.pdf

<http://www.matematica1.com/2012/05/la-funcion-lineal-ejercicios-resueltos.html>

http://amolasmates.es/pdf/ejercicios/3_ESO/Ejercicios%20de%20Funcion%20Lineal.pdf

<http://www.juntadeandalucia.es/averroes/iesarroyo/matematicas/materiales/3eso/solucionlibro/unidad11.pdf>